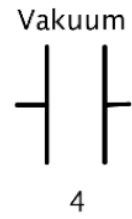
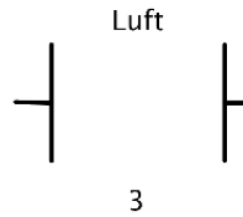
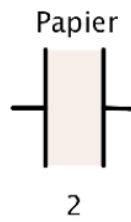
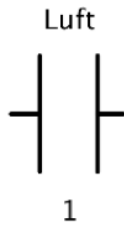


Kondensatoren vergleichen



Auf den vier Kondensatoren befindet sich jeweils die gleiche Ladung Q . Vergleiche die Spannungen der vier Kondensatoren und begründe deine Angaben. Die Zeichnungen sind Maßstabsgetreu.